

Тренировочная работа по МАТЕМАТИКЕ

11 класс

18 апреля 2018 года

Вариант МА10505

(базовый уровень)

Выполнена: ФИО _____ класс _____

Инструкция по выполнению работы

Работа по математике включает в себя 20 заданий.

На выполнение работы отводится 3 часа (180 минут).

Ответы к заданиям записываются в виде числа или последовательности цифр в поле ответа в тексте работы.

При выполнении заданий можно пользоваться черновиком. Записи в черновике не учитываются при оценивании работы. Баллы, полученные Вами за выполненные задания, суммируются. Постарайтесь выполнить как можно больше заданий и набрать наибольшее количество баллов.

Желаем успеха!

Ответом к каждому заданию является конечная десятичная дробь, целое число или последовательность цифр. Запишите ответы к заданиям в поле ответа в тексте работы.

1 Найдите значение выражения $\frac{4,7 - 1,4}{7,5}$.

Ответ: _____.

2 Найдите значение выражения $\frac{6^4 \cdot 3^{-4}}{2^{-5}}$.

Ответ: _____.

3 Число больных гриппом в школе уменьшилось за месяц в десять раз. На сколько процентов уменьшилось число больных гриппом?

Ответ: _____.

4 Энергия заряженного конденсатора W (в Дж) вычисляется по формуле $W = \frac{q^2}{2C}$, где C — ёмкость конденсатора (в Ф), а q — заряд на одной обкладке конденсатора (в Кл). Найдите энергию (в Дж) конденсатора ёмкостью $5 \cdot 10^{-4}$ Ф, если заряд на его обкладке равен 0,019 Кл.

Ответ: _____.

5 Найдите значение выражения $\frac{(7\sqrt{2})^2}{28}$.

Ответ: _____.

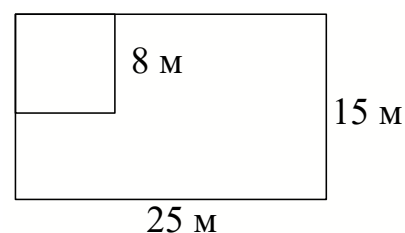
6 Таксист за месяц проехал 10 000 км. Цена бензина 38 рублей за литр. Средний расход бензина на 100 км составляет 10 литров. Сколько рублей потратил таксист на бензин за этот месяц?

Ответ: _____.

7 Найдите корень уравнения $\log_3(7x - 15) = 3$.

Ответ: _____.

8 Дачный участок имеет форму прямоугольника со сторонами 25 метров и 15 метров. Хозяин отгородил на участке квадратный вольер со стороной 8 метров (см. рисунок). Найдите площадь оставшейся части участка. Ответ дайте в квадратных метрах.



Ответ: _____.

9 Установите соответствие между величинами и их возможными значениями: к каждому элементу первого столбца подберите соответствующий элемент из второго столбца.

ВЕЛИЧИНЫ

- А) объём железнодорожного вагона
- Б) объём бытового холодильника
- В) объём воды в Ладожском озере
- Г) объём пакета сока

ЗНАЧЕНИЯ

- 1) 300 л
- 2) 120 м^3
- 3) 908 км^3
- 4) 1,5 л

В таблице под каждой буквой, соответствующей величине, укажите номер её возможного значения.

Ответ:

А	Б	В	Г

- 10** Из 500 семян фасоли в среднем 125 не всходят. Какова вероятность того, что случайно выбранное семя фасоли взойдёт?

Ответ: _____.

- 11** В соревнованиях по метанию молота участники показали следующие результаты.

Спортсмен	Результат попытки, м					
	I	II	III	IV	V	VI
Ванин	49	50,5	50	51	51	49,5
Авдиенко	51	52,5	49,5	50	52	51,5
Касаткин	50,5	50	49	51,5	51	51,5
Никонов	52	51	52	50,5	51,5	51

Места распределяются по результату лучшей попытки каждого спортсмена: чем дальше он метнул молот, тем лучше.

Какое место занял спортсмен Авдиенко?

Ответ: _____.

- 12** В таблице приведены данные о шести сумках.

Номер сумки	Длина (см)	Высота (см)	Ширина (см)	Масса (кг)
1	58	49	35	4,9
2	105	65	35	3,9
3	85	64	17	4,7
4	69	55	37	5,4
5	102	75	46	4,8
6	76	56	42	8,3

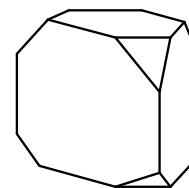
По правилам авиакомпании в ручную кладь может быть взята сумка, сумма трёх измерений (длина, высота, ширина) которой не должна превышать 203 см, а масса не должна быть больше 5 кг. Какие сумки можно взять в ручную кладь по правилам этой авиакомпании?

В ответе укажите номера выбранных сумок без пробелов, запятых и других дополнительных символов.

Ответ: _____.

13

От деревянной правильной треугольной призмы отпилили все её вершины (см. рисунок). Сколько рёбер у получившегося многогранника (невидимые рёбра на рисунке не изображены)?

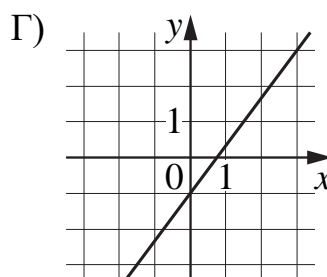
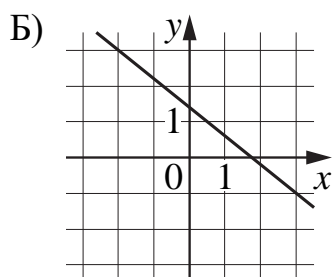
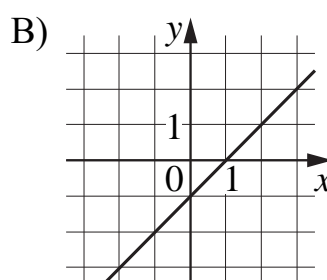
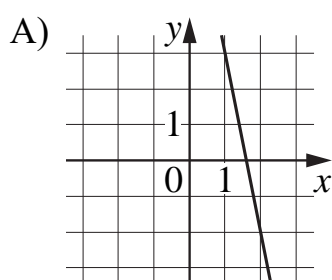


Ответ: _____.

14

Установите соответствие между графиками линейных функций и угловыми коэффициентами прямых.

ГРАФИКИ



УГЛОВЫЕ КОЭФФИЦИЕНТЫ

- 1) $\frac{4}{3}$
- 2) -5
- 3) $-0,8$
- 4) 1

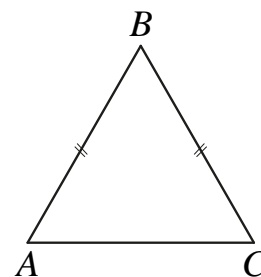
В таблице под каждой буквой укажите соответствующий номер.

Ответ:

А	Б	В	Г

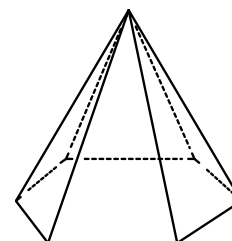
- 15** В равнобедренном треугольнике ABC основание $AC = 28$, $\operatorname{tg} A = \frac{10}{7}$. Найдите площадь треугольника ABC .

Ответ: _____.

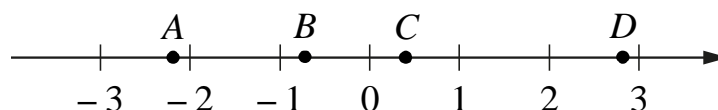


- 16** Сторона основания правильной шестиугольной пирамиды равна 40, боковое ребро равно 101. Найдите площадь боковой поверхности этой пирамиды.

Ответ: _____.



- 17** На координатной прямой отмечены точки A , B , C и D .



Число m равно $\sqrt{2}$.

Каждой точке соответствует одно из чисел в правом столбце. Установите соответствие между указанными точками и числами.

ТОЧКИ

A
 B
 C
 D

ЧИСЛА

- 1) $2m - 5$
- 2) m^3
- 3) $m - 1$
- 4) $-\frac{1}{m}$

В таблице для каждой точки укажите номер соответствующего числа.

Ответ:

A	B	C	D

18 В группе учатся 30 студентов, из них 20 человек сдали зачёт по экономике и 20 сдали зачёт по английскому языку. Выберите утверждения, которые верны при указанных условиях.

- 1) В этой группе найдётся 11 студентов, не сдавших ни одного из этих двух зачётов.
- 2) Хотя бы 10 студентов из этой группы сдали зачёты и по экономике, и по английскому языку.
- 3) Не более 20 студентов из этой группы сдали зачёты и по экономике, и по английскому языку.
- 4) В этой группе найдётся 20 студентов, которые не сдали зачёта по английскому языку, но сдали зачёт по экономике.

В ответе запишите номера выбранных утверждений без пробелов, запятых и других дополнительных символов.

Ответ: _____.

19 Вычеркните в числе 75157613 три цифры так, чтобы получившееся число делилось на 12. В ответе укажите какое-нибудь одно получившееся число.

Ответ: _____.

20 В магазине квас на разлив можно купить в бутылках, причём стоимость кваса в бутылке складывается из стоимости самой бутылки и кваса, налитого в неё. Цена бутылки не зависит от её объёма. Бутылка кваса объёмом 1 литр стоит 36 рублей, объёмом 2 литра — 66 рублей. Сколько рублей будет стоить бутылка кваса объёмом 1,5 литра?

Ответ: _____.

Тренировочная работа по МАТЕМАТИКЕ

11 класс

18 апреля 2018 года

Вариант МА10506

(базовый уровень)

Выполнена: ФИО _____ класс _____

Инструкция по выполнению работы

Работа по математике включает в себя 20 заданий.

На выполнение работы отводится 3 часа (180 минут).

Ответы к заданиям записываются в виде числа или последовательности цифр в поле ответа в тексте работы.

При выполнении заданий можно пользоваться черновиком. Записи в черновике не учитываются при оценивании работы. Баллы, полученные Вами за выполненные задания, суммируются. Постарайтесь выполнить как можно больше заданий и набрать наибольшее количество баллов.

Желаем успеха!

Ответом к каждому заданию является конечная десятичная дробь, целое число или последовательность цифр. Запишите ответы к заданиям в поле ответа в тексте работы.

1 Найдите значение выражения $\frac{3,1 - 5,7}{2,5}$.

Ответ: _____.

2 Найдите значение выражения $\frac{8^{-4} \cdot 32^2}{4^{-5}}$.

Ответ: _____.

3 Число больных гриппом в школе уменьшилось за месяц в два раза. На сколько процентов уменьшилось число больных гриппом?

Ответ: _____.

4 Энергия заряженного конденсатора W (в Дж) вычисляется по формуле $W = \frac{q^2}{2C}$, где C — ёмкость конденсатора (в Ф), а q — заряд на одной обкладке конденсатора (в Кл). Найдите энергию (в Дж) конденсатора ёмкостью $5 \cdot 10^{-4}$ Ф, если заряд на его обкладке равен 0,009 Кл.

Ответ: _____.

5 Найдите значение выражения $\frac{(8\sqrt{2})^2}{16}$.

Ответ: _____.

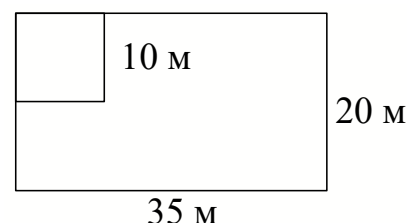
6 Таксист за месяц проехал 11 000 км. Цена бензина 36 рублей за литр. Средний расход бензина на 100 км составляет 10 литров. Сколько рублей потратил таксист на бензин за этот месяц?

Ответ: _____.

7 Найдите корень уравнения $\log_{\frac{3}{4}}\left(\frac{1}{4}x - 1\right) = 2$.

Ответ: _____.

8 Дачный участок имеет форму прямоугольника со сторонами 35 метров и 20 метров. Хозяин отгородил на участке квадратный вольер со стороной 10 метров (см. рисунок). Найдите площадь оставшейся части участка. Ответ дайте в квадратных метрах.



Ответ: _____.

9 Установите соответствие между величинами и их возможными значениями: к каждому элементу первого столбца подберите соответствующий элемент из второго столбца.

ВЕЛИЧИНЫ

- А) объём воды в озере Байкал
 Б) объём пакета кефира
 В) объём бассейна
 Г) объём ящика для фруктов

ЗНАЧЕНИЯ

- 1) 1 л
 2) 23 615,39 км³
 3) 72 л
 4) 600 м³

В таблице под каждой буквой, соответствующей величине, укажите номер её возможного значения.

Ответ:

А	Б	В	Г

- 10** Из 600 луковиц тюльпанов в среднем 48 не прорастают. Какова вероятность того, что случайно выбранная и посаженная луковица прорастёт?

Ответ: _____.

- 11** В соревнованиях по метанию молота участники показали следующие результаты.

Спортсмен	Результат попытки, м					
	I	II	III	IV	V	VI
Донников	54,5	53	55,5	53,5	54,5	55
Мелихов	55	56	54,5	55,5	56	54,5
Иванов	54	53	53,5	54	52,5	51,5
Теплицын	54,5	54	53	55	51,5	49

Места распределяются по результату лучшей попытки каждого спортсмена: чем дальше он метнул молот, тем лучше.

Какое место занял спортсмен Иванов?

Ответ: _____.

- 12** В таблице приведены данные о шести сумках.

Номер сумки	Длина (см)	Высота (см)	Ширина (см)	Масса (кг)
1	52	38	18	5,5
2	65	47	26	11,2
3	55	36	24	8,7
4	42	31	16	4,6
5	58	40	20	9,3
6	49	37	19	10,1

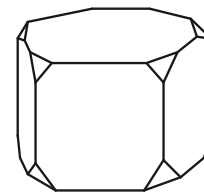
По правилам авиакомпании в ручную кладь может быть взята сумка, размеры которой не превышают 55 см в длину, 40 см в высоту, 20 см в ширину и масса которой не превышает 10 кг. Какие сумки можно взять в ручную кладь по правилам этой авиакомпании?

В ответе укажите номера выбранных сумок без пробелов, запятых и других дополнительных символов.

Ответ: _____.

13

От деревянной правильной пятиугольной призмы отпилили все её вершины (см. рисунок). Сколько граней у получившегося многогранника (невидимые рёбра на рисунке не изображены)?

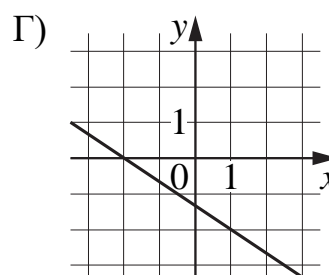
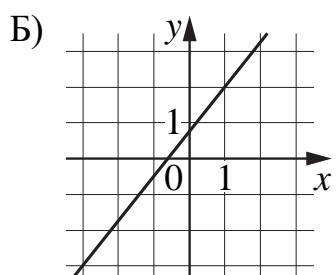
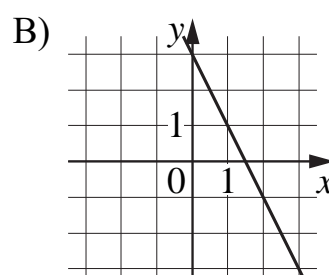
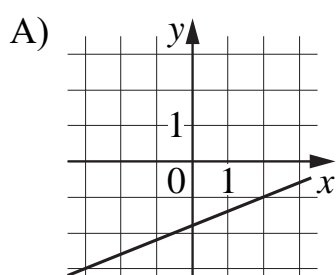


Ответ: _____.

14

Установите соответствие между графиками линейных функций и угловыми коэффициентами прямых.

ГРАФИКИ



УГЛОВЫЕ КОЭФФИЦИЕНТЫ

- 1) 0,4
- 2) 1,25
- 3) $-\frac{2}{3}$
- 4) -2

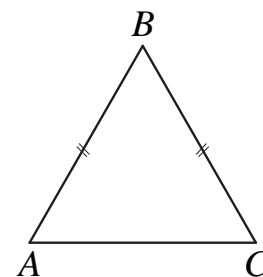
В таблице под каждой буквой укажите соответствующий номер.

Ответ:

А	Б	В	Г

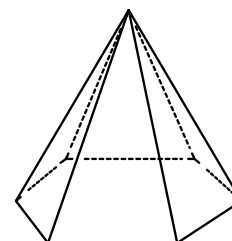
- 15** В равнобедренном треугольнике ABC основание $AC = 40$, $\operatorname{tg} A = \frac{9}{8}$. Найдите площадь треугольника ABC .

Ответ: _____.

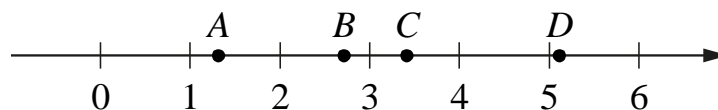


- 16** Сторона основания правильной шестиугольной пирамиды равна 10, боковое ребро равно 13. Найдите площадь боковой поверхности этой пирамиды.

Ответ: _____.



- 17** На координатной прямой отмечены точки A , B , C и D .



Число m равно $\sqrt{3}$.

Каждой точке соответствует одно из чисел в правом столбце. Установите соответствие между указанными точками и числами.

ТОЧКИ

A
 B
 C
 D

ЧИСЛА

- 1) $m + 1$
- 2) m^3
- 3) \sqrt{m}
- 4) $\frac{6}{m}$

В таблице для каждой точки укажите номер соответствующего числа.

Ответ:

A	B	C	D

18 Повар испёк 40 печений, из них 10 печений он посыпал корицей, а 20 печений посыпал сахаром. Выберите утверждения, которые верны при указанных условиях.

- 1) Найдётся 20 печений, посыпанных и сахаром, и корицей.
- 2) Найдётся 10 печений, которые ничем не посыпаны.
- 3) Не может оказаться больше 10 печений, посыпанных и сахаром, и корицей.
- 4) Если печенье посыпано сахаром, то оно посыпано и корицей.

В ответе запишите номера выбранных утверждений без пробелов, запятых и других дополнительных символов.

Ответ: _____.

19 Вычеркните в числе 30239545 три цифры так, чтобы получившееся число делилось на 22. В ответе укажите какое-нибудь одно получившееся число.

Ответ: _____.

20 В магазине квас на разлив можно купить в бутылках, причём стоимость кваса в бутылке складывается из стоимости самой бутылки и кваса, налитого в неё. Цена бутылки не зависит от её объёма. Бутылка кваса объёмом 1 литр стоит 40 рублей, объёмом 2 литра — 70 рублей. Сколько рублей будет стоить бутылка кваса объёмом 0,5 литра?

Ответ: _____.

Тренировочная работа по МАТЕМАТИКЕ

11 класс

18 апреля 2018 года

Вариант МА10507

(базовый уровень)

Выполнена: ФИО _____ класс _____

Инструкция по выполнению работы

Работа по математике включает в себя 20 заданий.

На выполнение работы отводится 3 часа (180 минут).

Ответы к заданиям записываются в виде числа или последовательности цифр в поле ответа в тексте работы.

При выполнении заданий можно пользоваться черновиком. Записи в черновике не учитываются при оценивании работы. Баллы, полученные Вами за выполненные задания, суммируются. Постарайтесь выполнить как можно больше заданий и набрать наибольшее количество баллов.

Желаем успеха!

Ответом к каждому заданию является конечная десятичная дробь, целое число или последовательность цифр. Запишите ответы к заданиям в поле ответа в тексте работы.

1 Найдите значение выражения $\frac{6,8 - 4,7}{1,4}$.

Ответ: _____.

2 Найдите значение выражения $\frac{6^{-3} \cdot 18^7}{3^{10}}$.

Ответ: _____.

3 Число больных гриппом в школе уменьшилось за месяц в двадцать раз. На сколько процентов уменьшилось число больных гриппом?

Ответ: _____.

4 Энергия заряженного конденсатора W (в Дж) вычисляется по формуле $W = \frac{q^2}{2C}$, где C — ёмкость конденсатора (в Ф), а q — заряд на одной обкладке конденсатора (в Кл). Найдите энергию (в Дж) конденсатора ёмкостью $5 \cdot 10^{-4}$ Ф, если заряд на его обкладке равен 0,05 Кл.

Ответ: _____.

5 Найдите значение выражения $\frac{(4\sqrt{3})^2}{30}$.

Ответ: _____.

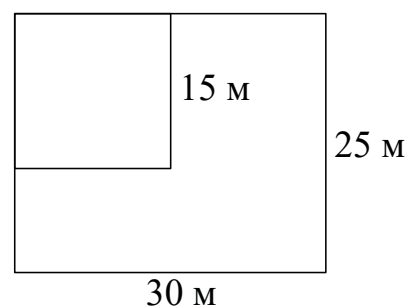
- 6 Таксист за месяц проехал 6000 км. Цена бензина 36 рублей за литр. Средний расход бензина на 100 км составляет 9 литров. Сколько рублей потратил таксист на бензин за этот месяц?

Ответ: _____.

- 7 Найдите корень уравнения $\log_5(-2x+9) = 2$.

Ответ: _____.

- 8 Дачный участок имеет форму прямоугольника со сторонами 25 метров и 30 метров. Хозяин отгородил на участке квадратный вольер со стороной 15 метров (см. рисунок). Найдите площадь оставшейся части участка. Ответ дайте в квадратных метрах.



Ответ: _____.

- 9 Установите соответствие между величинами и их возможными значениями: к каждому элементу первого столбца подберите соответствующий элемент из второго столбца.

ВЕЛИЧИНЫ

ЗНАЧЕНИЯ

- | | |
|---|------------------------|
| А) объём детской комнаты | 1) $12,8 \text{ км}^3$ |
| Б) объём пакета сметаны | 2) 0,5 л |
| В) объём коробки из-под стиральной машины | 3) 36 м^3 |
| Г) объём воды в озере Таймыр | 4) 300 л |

В таблице под каждой буквой, соответствующей величине, укажите номер её возможного значения.

Ответ:

А	Б	В	Г

- 10** Из 1200 чистых компакт-дисков в среднем 72 непригодны для записи. Какова вероятность того, что случайно выбранный диск пригоден для записи?

Ответ: _____.

- 11** В соревнованиях по метанию молота участники показали следующие результаты.

Спортсмен	Результат попытки, м					
	I	II	III	IV	V	VI
Витков	55,5	55	54	53	54,5	55,5
Птицын	52	51,5	53,5	53	54	54,5
Коваленко	49,5	49	50,5	51	51	52
Арнюк	51	52	51	50,5	52,5	52

Места распределяются по результату лучшей попытки каждого спортсмена: чем дальше он метнул молот, тем лучше.

Какое место занял спортсмен Арнюк?

Ответ: _____.

- 12** В таблице приведены данные о шести сумках.

Номер сумки	Длина (см)	Высота (см)	Ширина (см)	Масса (кг)
1	56	25	15	8,1
2	47	30	16	9,2
3	51	39	22	8,5
4	53	34	17	9,4
5	45	37	29	7,6
6	42	32	12	11,3

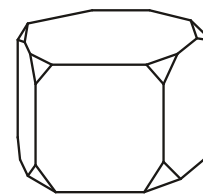
По правилам авиакомпании в ручную кладь может быть взята сумка, размеры которой не превышают 55 см в длину, 40 см в высоту, 20 см в ширину и масса которой не превышает 10 кг. Какие сумки можно взять в ручную кладь по правилам этой авиакомпании?

В ответе укажите номера выбранных сумок без пробелов, запятых и других дополнительных символов.

Ответ: _____.

13

От деревянной правильной пятиугольной призмы отпилили все её вершины (см. рисунок). Сколько вершин у получившегося многогранника (невидимые рёбра на рисунке не изображены)?

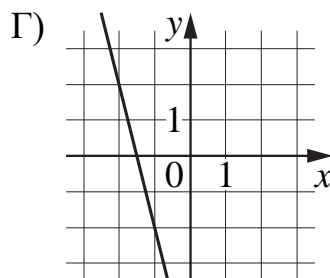
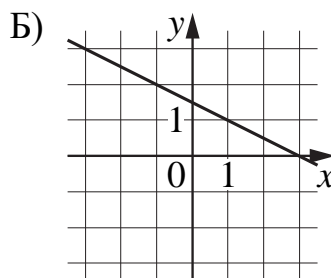
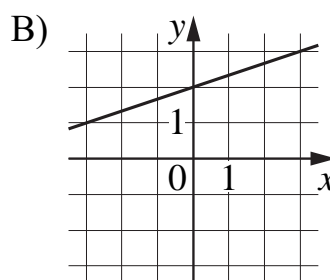
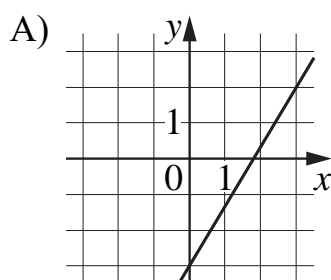


Ответ: _____.

14

Установите соответствие между графиками линейных функций и угловыми коэффициентами прямых.

ГРАФИКИ



УГЛОВЫЕ КОЭФФИЦИЕНТЫ

- 1) $-0,5$
- 2) $\frac{1}{3}$
- 3) -4
- 4) $\frac{5}{3}$

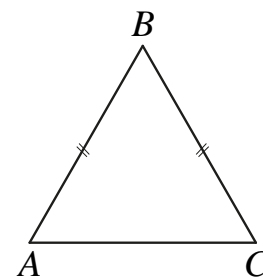
В таблице под каждой буквой укажите соответствующий номер.

Ответ:

А	Б	В	Г

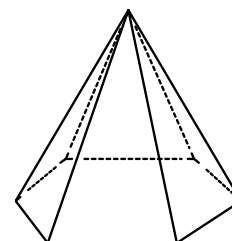
- 15** В равнобедренном треугольнике ABC основание $AC = 24$, $\operatorname{tg} A = \frac{7}{6}$. Найдите площадь треугольника ABC .

Ответ: _____.

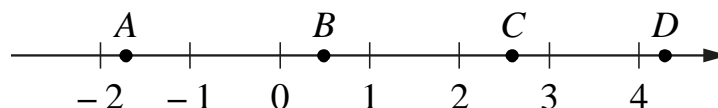


- 16** Сторона основания правильной шестиугольной пирамиды равна 16, боковое ребро равно 17. Найдите площадь боковой поверхности этой пирамиды.

Ответ: _____.



- 17** На координатной прямой отмечены точки A , B , C и D .



Число m равно $-\sqrt{0,5}$.

Каждой точке соответствует одно из чисел в правом столбце. Установите соответствие между указанными точками и числами.

ТОЧКИ

A
 B
 C
 D

ЧИСЛА

- 1) $\sqrt{6-m}$
- 2) $m-1$
- 3) m^2
- 4) $-\frac{3}{m}$

В таблице для каждой точки укажите номер соответствующего числа.

Ответ:

A	B	C	D

18 В фирме N работает 100 человек, из них 70 человек знают португальский язык, а 50 — французский. Выберите утверждения, которые верны при указанных условиях.

- 1) В фирме N хотя бы пять человек знают и португальский, и французский языки.
- 2) Нет ни одного человека в этой фирме, знающего и португальский, и французский языки.
- 3) Если человек из этой фирмы знает португальский язык, то он знает и французский.
- 4) Не более 50 человек из этой фирмы знают и португальский, и французский языки.

В ответе запишите номера выбранных утверждений без пробелов, запятых и других дополнительных символов.

Ответ: _____.

19 Вычеркните в числе 14563743 три цифры так, чтобы получившееся число делилось на 22. В ответе укажите какое-нибудь одно получившееся число.

Ответ: _____.

20 В магазине квас на разлив можно купить в бутылках, причём стоимость кваса в бутылке складывается из стоимости самой бутылки и кваса, налитого в неё. Цена бутылки не зависит от её объёма. Бутылка кваса объёмом 1 литр стоит 42 рубля, объёмом 2 литра — 72 рубля. Сколько рублей будет стоить бутылка кваса объёмом 1,5 литра?

Ответ: _____.

Тренировочная работа по МАТЕМАТИКЕ

11 класс

18 апреля 2018 года

Вариант МА10508

(базовый уровень)

Выполнена: ФИО _____ класс _____

Инструкция по выполнению работы

Работа по математике включает в себя 20 заданий.

На выполнение работы отводится 3 часа (180 минут).

Ответы к заданиям записываются в виде числа или последовательности цифр в поле ответа в тексте работы.

При выполнении заданий можно пользоваться черновиком. Записи в черновике не учитываются при оценивании работы. Баллы, полученные Вами за выполненные задания, суммируются. Постарайтесь выполнить как можно больше заданий и набрать наибольшее количество баллов.

Желаем успеха!

Ответом к каждому заданию является конечная десятичная дробь, целое число или последовательность цифр. Запишите ответы к заданиям в поле ответа в тексте работы.

1 Найдите значение выражения $\frac{2,6 - 8,4}{2,5}$.

Ответ: _____.

2 Найдите значение выражения $\frac{50^{11} \cdot 5^{-10}}{10^9}$.

Ответ: _____.

3 Число больных гриппом в школе уменьшилось за месяц в пять раз. На сколько процентов уменьшилось число больных гриппом?

Ответ: _____.

4 Энергия заряженного конденсатора W (в Дж) вычисляется по формуле $W = \frac{q^2}{2C}$, где C — ёмкость конденсатора (в Ф), а q — заряд на одной обкладке конденсатора (в Кл). Найдите энергию (в Дж) конденсатора ёмкостью 10^{-4} Ф, если заряд на его обкладке равен 0,0012 Кл.

Ответ: _____.

5 Найдите значение выражения $\frac{(6\sqrt{5})^2}{24}$.

Ответ: _____.

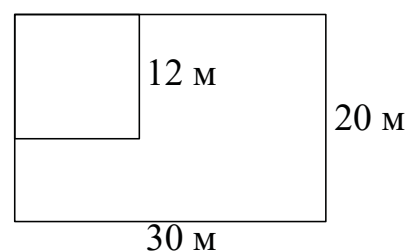
6 Таксист за месяц проехал 9000 км. Цена бензина 35 рублей за литр. Средний расход бензина на 100 км составляет 10 литров. Сколько рублей потратил таксист на бензин за этот месяц?

Ответ: _____.

7 Найдите корень уравнения $\log_7(2x + 5) = 1$.

Ответ: _____.

8 Дачный участок имеет форму прямоугольника со сторонами 30 метров и 20 метров. Хозяин отгородил на участке квадратный вольер со стороной 12 метров (см. рисунок). Найдите площадь оставшейся части участка. Ответ дайте в квадратных метрах.



Ответ: _____.

9 Установите соответствие между величинами и их возможными значениями: к каждому элементу первого столбца подберите соответствующий элемент из второго столбца.

ВЕЛИЧИНЫ

- А) объём ящика комода
- Б) объём воды в Каспийском море
- В) объём пакета ряженки
- Г) объём железнодорожного вагона

ВОЗМОЖНЫЕ ЗНАЧЕНИЯ

- 1) 0,75 л
- 2) $78\,200\text{ км}^3$
- 3) 96 л
- 4) 90 м^3

В таблице под каждой буквой, соответствующей величине, укажите номер её возможного значения.

Ответ:

А	Б	В	Г

- 10** Из 300 саженцев крыжовника в среднем 36 не приживаются. Какова вероятность того, что случайно выбранный саженец крыжовника приживётся?

Ответ: _____.

- 11** В соревнованиях по метанию молота участники показали следующие результаты.

Спортсмен	Результат попытки, м					
	I	II	III	IV	V	VI
Кузнецов	53	53	52	51,5	50,5	51
Летов	51	50,5	52	51,5	52	51,5
Минаков	49,5	50,5	51,5	50	51	49
Терпилов	51	52	53	53,5	54	54,5

Места распределяются по результату лучшей попытки каждого спортсмена: чем дальше он метнул молот, тем лучше.

Какое место занял спортсмен Минаков?

Ответ: _____.

- 12** В таблице приведены данные о шести сумках.

Номер сумки	Длина (см)	Высота (см)	Ширина (см)	Масса (кг)
1	59	42	17	7,4
2	53	48	25	8,9
3	54	37	16	5,7
4	51	39	18	13,2
5	52	35	15	4,9
6	54	47	17	6,8

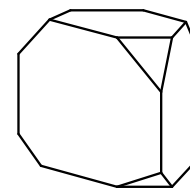
По правилам авиакомпании в ручную кладь может быть взята сумка, размеры которой не превышают 55 см в длину, 40 см в высоту, 20 см в ширину и масса которой не превышает 10 кг. Какие сумки можно взять в ручную кладь по правилам этой авиакомпании?

В ответе укажите номера выбранных сумок без пробелов, запятых и других дополнительных символов.

Ответ: _____.

13

От деревянной правильной треугольной призмы отпилили все её вершины (см. рисунок). Сколько граней у получившегося многогранника (невидимые рёбра на рисунке не изображены)?

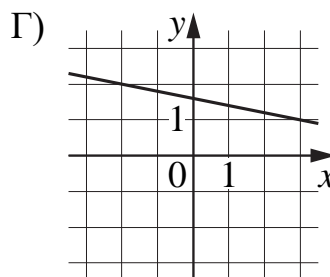
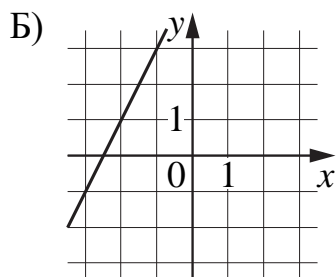
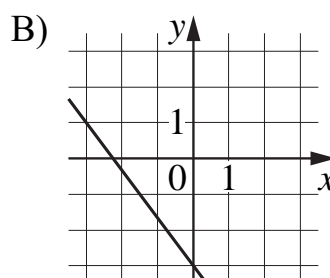
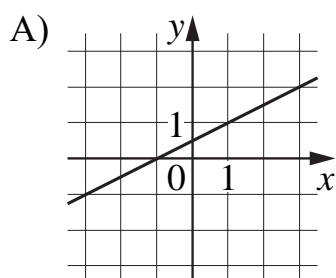


Ответ: _____.

14

Установите соответствие между графиками линейных функций и угловыми коэффициентами прямых.

ГРАФИКИ



УГЛОВЫЕ КОЭФФИЦИЕНТЫ

- 1) $-0,2$
- 2) $-\frac{4}{3}$
- 3) $0,5$
- 4) 2

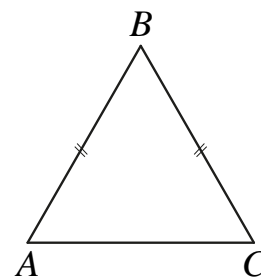
В таблице под каждой буквой укажите соответствующий номер.

Ответ:

А	Б	В	Г

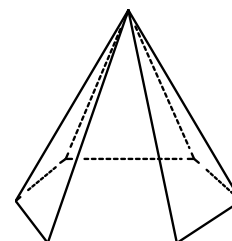
- 15** В равнобедренном треугольнике ABC основание $AC = 36$, $\operatorname{tg} A = \frac{11}{6}$. Найдите площадь треугольника ABC .

Ответ: _____.

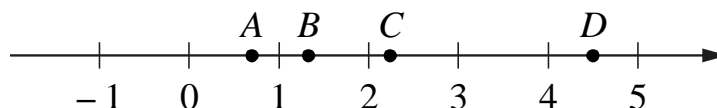


- 16** Сторона основания правильной шестиугольной пирамиды равна 18, боковое ребро равно 41. Найдите площадь боковой поверхности этой пирамиды.

Ответ: _____.



- 17** На координатной прямой отмечены точки A , B , C и D .



Число m равно $-\sqrt{2,2}$.

Каждой точке соответствует одно из чисел в правом столбце. Установите соответствие между указанными точками и числами.

ТОЧКИ

A
 B
 C
 D

ЧИСЛА

- 1) $3 - m$
2) $-\frac{2}{m}$
3) $\sqrt{m + 2}$
4) m^2

В таблице для каждой точки укажите номер соответствующего числа.

Ответ:

A	B	C	D

18 В классе учатся 30 человек, из них 20 человек посещают кружок по биологии, а 16 — кружок по географии. Выберите утверждения, которые верны при указанных условиях.

- 1) Найдутся хотя бы двое из этого класса, кто посещает оба кружка.
- 2) Если ученик из этого класса посещает кружок по биологии, то он обязательно посещает кружок по географии.
- 3) Каждый ученик из этого класса посещает оба кружка.
- 4) Не найдётся 17 человек из этого класса, которые посещают оба кружка.

В ответе запишите номера выбранных утверждений без пробелов, запятых и других дополнительных символов.

Ответ: _____.

19 Вычеркните в числе 24715905 три цифры так, чтобы получившееся число делилось на 30. В ответе укажите какое-нибудь одно получившееся число.

Ответ: _____.

20 В магазине квас на разлив можно купить в бутылках, причём стоимость кваса в бутылке складывается из стоимости самой бутылки и кваса, налитого в неё. Цена бутылки не зависит от её объёма. Бутылка кваса объёмом 1 литр стоит 35 рублей, объёмом 2 литра — 65 рублей. Сколько рублей будет стоить бутылка кваса объёмом 1,5 литра?

Ответ: _____.