

Основной Государственный Экзамен по МАТЕМАТИКЕ

Инструкция по выполнению работы

Экзаменационная работа состоит из двух частей, включающих в себя 26 заданий. Часть 1 содержит 20 заданий, часть 2 содержит 6 заданий с развёрнутым ответом.

На выполнение экзаменационной работы по математике отводится 3 часа 55 минут (235 минут).

Ответы к заданиям 7 и 15 запишите в бланк ответов № 1 в виде одной цифры, которая соответствует номеру правильного ответа.

Для остальных заданий части 1 ответом является число или последовательность цифр. Ответ запишите в поле ответа в тексте работы, а затем перенесите в бланк ответов № 1. Если получилась обыкновенная дробь, ответ запишите в виде десятичной.

Решения заданий части 2 и ответы к ним запишите на бланке ответов № 2. Задания можно выполнять в любом порядке. Текст задания переписывать не надо, необходимо только указать его номер.

Все бланки заполняются яркими чёрными чернилами. Допускается использование гелевой или капиллярной ручки.

Сначала выполняйте задания части 1. Начать советуем с тех заданий, которые вызывают у Вас меньше затруднений, затем переходите к другим заданиям. Для экономии времени пропускайте задание, которое не удаётся выполнить сразу, и переходите к следующему. Если у Вас останется время, Вы сможете вернуться к пропущенным заданиям.

При выполнении части 1 все необходимые вычисления, преобразования выполняйте в черновике. Записи в черновике, а также в тексте контрольных измерительных материалов не учитываются при оценивании работы.

Если задание содержит рисунок, то на нём непосредственно в тексте работы можно выполнять необходимые Вам построения. Рекомендуем внимательно читать условие и проводить проверку полученного ответа.

При выполнении работы Вы можете воспользоваться справочными материалами, выданными вместе с вариантом КИМ.

Баллы, полученные Вами за выполненные задания, суммируются. Постарайтесь выполнить как можно больше заданий и набрать наибольшее количество баллов.

Для прохождения аттестационного порога необходимо набрать не менее 8 баллов, из которых не менее 2 баллов должны быть получены за решение заданий по геометрии (задания 16–20, 24–26).

После завершения работы проверьте, чтобы ответ на каждое задание в бланках ответов №1 и №2 был записан под правильным номером.

Желаем успеха!

СПРАВОЧНЫЕ МАТЕРИАЛЫ

АЛГЕБРА

- Формула корней квадратного уравнения:

$$x = \frac{-b \pm \sqrt{D}}{2a}, \text{ где } D = b^2 - 4ac.$$

- Если квадратный трёхчлен $ax^2 + bx + c$ имеет два корня: x_1 и x_2 , то

$$ax^2 + bx + c = a(x - x_1)(x - x_2);$$

- если квадратный трёхчлен $ax^2 + bx + c$ имеет единственный корень x_0 , то

$$ax^2 + bx + c = a(x - x_0)^2.$$

- Формула n -го члена арифметической прогрессии (a_n) , первый член которой равен a_1 и разность равна d :

$$a_n = a_1 + d(n - 1).$$

- Формула суммы первых n членов арифметической прогрессии:

$$S_n = \frac{(a_1 + a_n)n}{2}.$$

- Формула n -го члена геометрической прогрессии b_n , первый член которой равен b_1 , а знаменатель равен q :

$$b_n = b_1 \cdot q^{n-1}.$$

- Формула суммы первых n членов геометрической прогрессии:

$$S_n = \frac{(q^n - 1)b_1}{q - 1}.$$

Таблица квадратов двузначных чисел

		Единицы									
		0	1	2	3	4	5	6	7	8	9
Десятки	1	100	121	144	169	196	225	256	289	324	361
	2	400	441	484	529	576	625	676	729	784	841
	3	900	961	1024	1089	1156	1225	1296	1369	1444	1521
	4	1600	1681	1764	1849	1936	2025	2116	2209	2304	2401
	5	2500	2601	2704	2809	2916	3025	3136	3249	3364	3481
	6	3600	3721	3844	3969	4096	4225	4356	4489	4624	4761
	7	4900	5041	5184	5329	5476	5625	5776	5929	6084	6241
	8	6400	6561	6724	6889	7056	7225	7396	7569	7744	7921
	9	8100	8281	8464	8649	8836	9025	9216	9409	9604	9801



ГЕОМЕТРИЯ

- Сумма углов выпуклого n -угольника равна $180^\circ(n-2)$.
- Радиус r окружности, вписанной в правильный треугольник со стороной a , равен $\frac{\sqrt{3}}{6}a$.
- Радиус R окружности, описанной около правильного треугольника со стороной a , равен $\frac{\sqrt{3}}{3}a$.
- Для треугольника ABC со сторонами $AB=c$, $AC=b$, $BC=a$:

$$\frac{a}{\sin A} = \frac{b}{\sin B} = \frac{c}{\sin C} = 2R,$$

где R — радиус описанной окружности.

- Для треугольника ABC со сторонами $AB=c$, $AC=b$, $BC=a$:

$$c^2 = a^2 + b^2 - 2ab \cos C.$$

- Формула длины l окружности радиусом R :

$$l = 2\pi R.$$

- Формула длины l дуги окружности радиусом R , на которую опирается центральный угол в φ градусов:

$$l = \frac{2\pi R \varphi}{360}.$$

- Формула площади S параллелограмма со стороной a и высотой h , проведённой к этой стороне:

$$S = ah.$$

- Формула площади S треугольника со стороной a и высотой h , проведённой к этой стороне:

$$S = \frac{1}{2}ah.$$

- Формула площади S трапеции с основаниями a , b и высотой h :

$$S = \frac{a+b}{2}h.$$

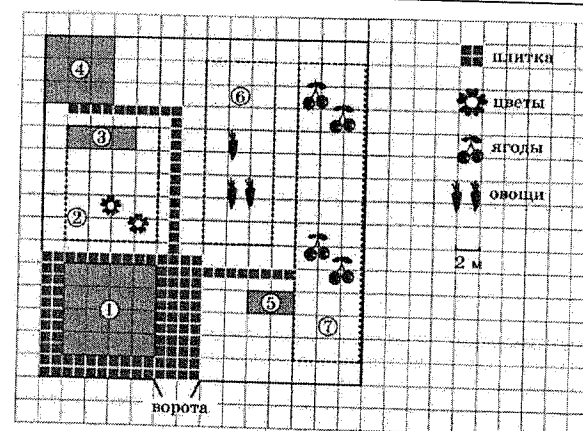
- Формула площади S круга радиусом R :

$$S = \pi R^2.$$

Часть 1

Ответами к заданиям 1–20 являются число или последовательность цифр, которые следует записать в БЛАНК ОТВЕТОВ № 1 справа от номера соответствующего задания, начиная с первой клеточки. Если ответом является последовательность цифр, то запишите её без пробелов, запятых и других дополнительных символов. Каждый символ пишите в отдельной клеточке в соответствии с приведёнными в бланке образцами.

Прочитайте внимательно текст и выполните задания 1-5



На плане изображён дачный участок по адресу: СНТ Рассвет, ул. Центральная, д. 32 (сторона каждой клетки на плане равна 2 м). Участок имеет прямоугольную форму. Выезд и въезд осуществляются через единственные ворота.

Площадь, занятая жилым домом, равна 64 кв. м. Помимо жилого дома, на участке есть баня, к которой ведёт дорожка, выложенная специальным садовым покрытием. Баня имеет площадь 36 кв. м.

Между жилым домом и баней находится цветник с теплицей. Теплица отмечена на плане цифрой 3. Напротив жилого дома находится бак с водой для полива растений, за ним плодово-ягодные кустарники. В глубине участка есть огород для выращивания овощей, отмеченный цифрой 6.

Все дорожки внутри участка имеют ширину 1 м и застелены садовым покрытием, состоящим из плит размером 1 м × 1 м. Площадка вокруг дома выложена такими же плитами.

К дачному участку подведено электричество. Имеется магистральное газоснабжение.





1 Для объектов, указанных в таблице, определите, какими цифрами они обозначены на плане. Заполните таблицу, в бланк ответов перенесите последовательность четырёх цифр без пробелов, запятых и других дополнительных символов.

Объекты	бак	кустарники	жилой дом	баня
Цифры				

2 Плиты для садовых дорожек продаются в упаковках по 5 штук. Сколько упаковок плит понадобилось, чтобы выложить все дорожки и площадку вокруг дома?

Ответ: _____.

3 Найдите площадь цветника с теплицей. Ответ дайте в квадратных метрах.

Ответ: _____.

4 Найдите суммарную площадь плитки, которой выложены дорожки. Ответ дайте в квадратных метрах.

Ответ: _____.

5 Хозяин участка планирует установить в жилом доме систему отопления. Он рассматривает два варианта: электрическое или газовое отопление. Цены на оборудование и стоимость его установки, данные о расходе газа, электроэнергии и их стоимости даны в таблице.

	Нагреватель (котёл)	Прочее оборудование и монтаж	Сред. расход газа/сред. потребл. мощность	Стоимость газа/электроэнергии
Газовое отопление	21 тыс. руб.	15 269 руб.	1,5 куб. м/ч	4,3 руб./куб. м
Электр. отопление	15 тыс. руб.	11 000 руб.	4,8 кВт	4,4 руб./(кВтч)

Обдумав оба варианта, хозяин решил установить газовое оборудование. Через сколько часов непрерывной работы отопления экономия от использования газа вместо электричества компенсирует разницу в стоимости установки газового и электрического оборудования?

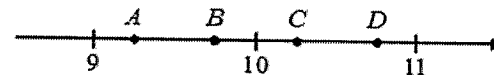
Ответ: _____.

6 Найдите значение выражения

$$\left(\frac{4}{9} - 3\frac{1}{15}\right) \cdot 9.$$

Ответ: _____.

7 На координатной прямой отмечены точки A, B, C, D . Одна из них соответствует числу $\sqrt{95}$. Какая это точка?



- 1) точка A
- 2) точка B
- 3) точка C
- 4) точка D

Ответ:

8 Найдите значение выражения

$$\frac{3^{-5} \cdot 3^{-7}}{3^{-15}}.$$

Ответ: _____.

9 Решите уравнение

$$5x^2 + 4x - 1 = 0.$$

Если уравнение имеет более одного корня, в ответ запишите больший из корней.

Ответ: _____.



10 В фирме такси в данный момент свободно 15 машин: 3 чёрных, 6 жёлтых и 6 зелёных. По вызову выехала одна из машин, случайно оказавшаяся ближе всего к заказчику. Найдите вероятность того, что к нему приедет жёлтое такси.

Ответ: _____.

11 Установите соответствие между функциями и их графиками.

ФУНКЦИИ

А) $y = \frac{1}{2}x - 2$ Б) $y = -\frac{1}{2}x - 2$ В) $y = -\frac{1}{2}x + 2$

ГРАФИКИ

1)

2)

3)

В таблице под каждой буквой укажите соответствующий номер.

Ответ:

А	Б	В

12 Выписаны первые три члена геометрической прогрессии:

7; 14; 28; ...

Найдите её пятый член.

Ответ: _____.

13 Найдите значение выражения

$$\frac{7ab}{a+7b} \cdot \left(\frac{a}{7b} - \frac{7b}{a} \right)$$

при $a = 7\sqrt{2} + 7$, $b = \sqrt{2} - 9$.

Ответ: _____.

14 Центробежное ускорение при движении по окружности (в м/с^2) вычисляется по формуле $a = \omega^2 R$, где ω – угловая скорость (в с^{-1}), R – радиус окружности (в метрах). Пользуясь этой формулой, найдите радиус R , если угловая скорость равна $8,5 \text{ с}^{-1}$, а центробежное ускорение равно $505,75 \text{ м/с}^2$. Ответ дайте в метрах.

Ответ: _____.


15 Укажите решение системы неравенств

$$\begin{cases} x > -1, \\ -4 - x > 0. \end{cases}$$

- 1)
- 2)
- 3)
- 4) нет решений

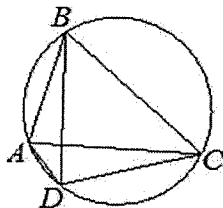
Ответ:

16 Один из углов равнобедренной трапеции равен 99° . Найдите меньший угол этой трапеции. Ответ дайте в градусах.



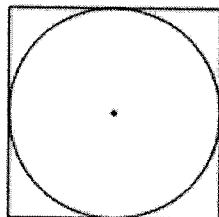
Ответ: _____.

17 Четырёхугольник $ABCD$ вписан в окружность. Угол ABC равен 70° , угол CAD равен 49° . Найдите угол ABD . Ответ дайте в градусах.



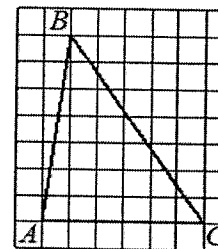
Ответ: _____.

18 Найдите площадь квадрата, описанного около окружности радиуса 40.



Ответ: _____.

19 На клетчатой бумаге с размером клетки 1×1 изображён треугольник ABC . Найдите длину его средней линии, параллельной стороне AC .



Ответ: _____.

20 Какое из следующих утверждений верно?

- 1) Все равнобедренные треугольники подобны.
- 2) Существует прямоугольник, диагонали которого взаимно перпендикулярны.
- 3) Сумма углов прямоугольного треугольника равна 90 градусам.

В ответ запишите номер выбранного утверждения.

Ответ: _____.

Не забудьте перенести все ответы в бланк ответов № 1 в соответствии с инструкцией по выполнению работы. Проверьте, чтобы каждый ответ был записан в строке с номером соответствующего задания.